

WPISUJEUCZE Ń

UZUPEŁNIAZESPÓŁ
NADZORUJĄCY

KODUCZNA

| | | |
|--|--|--|
| | | |
|--|--|--|

DATAURODZENIAUCZNA

| | | | | | | | |
|--|--|--|--|--|--|--|--|
| | | | | | | | |
|--|--|--|--|--|--|--|--|

dzień miesiąc rok

miejsce
nanaklejkę
zkodem

dysleksja

EGZAMIN
WTRZECIEJKLASIEGIMNAZJUM
ZZAKRESUPRZEDMIOTÓW
MATEMATYCZNO-PRZYRODNICZYCH

MAJ2003

Instrukcjadlaucznia

1. Sprawdź, czy zestaw egzaminacyjny zawiera 14 stron.
Ewentualny brak stron lub inne usterki zgłoś nauczycielowi.
2. Na tej stronie i na karcie odpowiedzi wpisz swój kod i datę urodzenia.
3. Czytaj uważnie wszystkie teksty zadania.
4. Rozwiązania zapisuj długopisem lub piórem czarnym tuszem/atramentem. Nie używaj korektora.
5. W zadaniach od 1. do 25. są podane cztery odpowiedzi: A, B, C, D.
Odpowiadając najwyżej jedną odpowiedź:

Czas pracy:
120 minut

Liczba punktów
do uzyskania: 50

| | | | |
|---|---|---|---|
| A | B | C | D |
|---|---|---|---|

Wybierz tylko jedną odpowiedź i zamaluj kratkę odpowiadającą jej literę np. gdy wybrałeś odpowiedź "A":

| | | | |
|---|---|---|---|
| ■ | B | C | D |
|---|---|---|---|

6. Staraj się nie popełnić błędów przy zaznaczaniu odpowiedzi, ale jeśli się pomylisz, błędne zaznaczenie otocz kółkiem i zamaluj inną odpowiedź.


| | | | |
|-----|---|---|---|
| ⊙ ■ | B | C | ■ |
|-----|---|---|---|

7. Rozwiązania zadań od 26. do 34. zapisz czytelnie i starannie w wyznaczonych miejscach. Pomyłki przekreślaj.
8. Redagując odpowiedź do zadania, możesz skorzystać z miejsc opatrzone napisem *Brudnopis*. Zapisy w brudnopisie nie będą sprawdzane i oceniane.

Powodzenia!

Informacja do zadania 1. i 2.

Diagram kołowy przedstawia wyniki wyborów do samorządu szkolnego.



Zadanie 1. (0–1)

Ile procent uczniów głosowało na Adama?

- A. 25
- B. 20
- C. 10
- D. 80

Zadanie 2. (0–1)

Jaką część uczniów głosowała na Agatę?

- A. Mniej niż $\frac{1}{4}$ ogółu.
- B. Mniej niż $\frac{1}{3}$, ale więcej niż $\frac{1}{4}$ ogółu.
- C. Więcej niż $\frac{1}{3}$, ale mniej niż $\frac{2}{5}$ ogółu.
- D. Więcej niż $\frac{2}{5}$ ogółu.

Zadanie 3. (0–1)

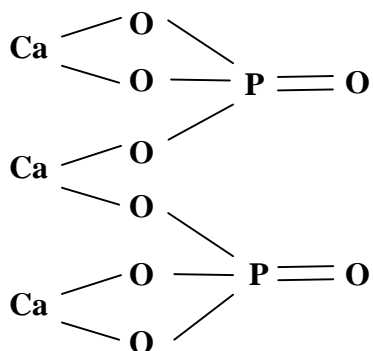
1 mol to tak dużo materii, która zawiera w przybliżeniu $6 \cdot 10^{23}$ (odpowiednio) atomów, cząsteczek lub jonów.

Ile cząsteczek wody zawarty jest w 0,25 mola wody?

- A. $1,5 \cdot 10^{23}$
- B. $0,5 \cdot 10^{22}$
- C. 10^{23}
- D. $0,25 \cdot 10^{23}$

Informacja do zadania 4.5.

Fosforan(V) wapni przypisujemy wzór strukturalny:



Zadanie 4. (0-1)

Wartościowość poszczególnych pierwiastków w tym związku jest równa:

- A. Ca-VI, P-X, O-XVI
- B. Ca-III, P-II, O-VIII
- C. Ca-II, P-III, O-II
- D. Ca-II, P-V, O-II

Zadanie 5. (0-1)

Wzór sumaryczny tego związku jest

- A. $\text{Ca}_3(\text{PO}_4)_2$
- B. $\text{Ca}_3(\text{PO}_5)_2$
- C. $2\text{Ca}_3(\text{PO}_4)$
- D. $3\text{Ca}(\text{PO}_4)_2$

Zadanie 6. (0-1)

Na rysunku przedstawiono wybrane informacje z układu okresowego pierwiastków. (Masy atomowe podane są w okrągleniu do jednej cyfry).

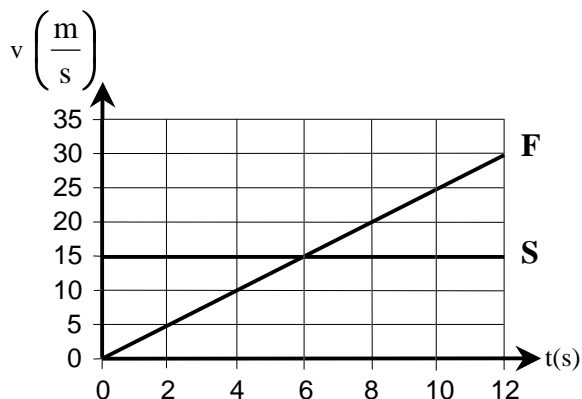
| | | |
|---------------------------------|--------------------------------|-----------------------------|
| Mg 12 magnez 24 | As 33 arsen 75 | O 8 tlen 16 |
|---------------------------------|--------------------------------|-----------------------------|

Korzystając z nich, oblicz masę cząsteczkową związku chemicznego o wzorze sumarycznym $\text{Mg}_3(\text{AsO}_4)_2$.

- A. 164
- B. 211
- C. 350
- D. 130

Informacja do zadań: 7–9.

W chwili, gdy zapaliły się zielone światła, samochód F ruszył zeskryżowania i został w tym momencie wyprzedzony przez samochód S. Na wykresie przedstawiono zależność szybkości tych samochodów od czasu, jaki upłynął od zapalenia się zielonych światel.



Zadanie 7. (0–1)

Wszóstej sekundzie

- A. oba samochody znajdowały się w tej samej odległości od skrzyżowania.
- B. samochód S wyprzedził samochód F.
- C. oba samochody miały takie samo przyspieszenie.
- D. oba samochody osiągnęły tę samą szybkość.

Zadanie 8. (0–1)

Wartość przyspieszenia samochodu F była równa

- A. $6 \frac{\text{m}}{\text{s}^2}$
- B. $2,5 \frac{\text{m}}{\text{s}^2}$
- C. $0,4 \frac{\text{m}}{\text{s}^2}$
- D. $0 \frac{\text{m}}{\text{s}^2}$

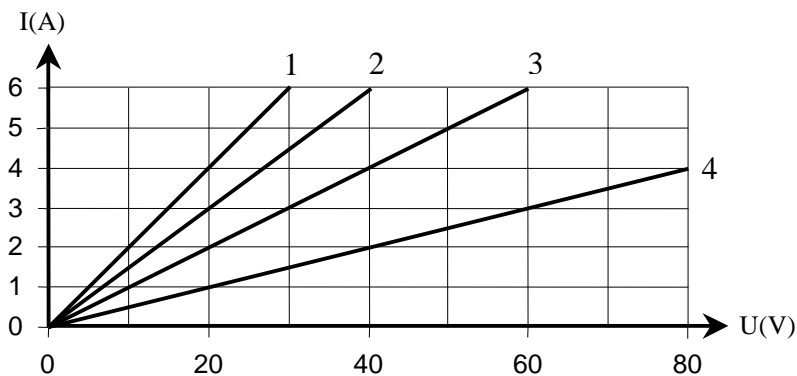
Zadanie 9. (0–1)

Wartość przyspieszenia samochodu S była równa

- A. $0 \frac{\text{m}}{\text{s}^2}$
- B. $4 \frac{\text{m}}{\text{s}^2}$
- C. $6 \frac{\text{m}}{\text{s}^2}$
- D. $15 \frac{\text{m}}{\text{s}^2}$

Zadanie 10. (0–1)

Na wykresie przedstawiono zależność natężenia I od napięcia U dla czterech odbiorników prądu.



Który odbiornik ma najwięcej opór?

- A. 1
- B. 2
- C. 3
- D. 4

Informacja do zadania 11. i 12.

Tabela

| Masa ciała ptaka | Masa jaj w procentach masy ciała dorosłego ptaka | Czas inkubacji (dni) |
|------------------|--|----------------------|
| 10g | 20% | 10 |
| 100g | 10% | 16 |
| 1kg | 4% | 21 |
| 10kg | 2% | 39 |
| 100kg | 1% | 68 |

Zadanie 11. (0–1)

Jeśli strus ma masę 100 kg a kura masę 1 kg, to zgodnie z tabelą różnica mas ich jaj wyrażona w gramach jest równa

- A. 3
- B. 96
- C. 99
- D. 960

Zadanie 12. (0–1)

Które zdanie o zależności czasu inkubacji od masy ciała ptaka jest prawdziwe?

- A. Czas inkubacji jest wprost proporcjonalny do masy ciała ptaka.
- B. Czas inkubacji rośnie wraz ze wzrostem masy ciała ptaka.
- C. Czas inkubacji jest odwrotnie proporcjonalny do masy ciała ptaka.
- D. Czas inkubacji maleje wraz ze wzrostem masy ciała ptaka.

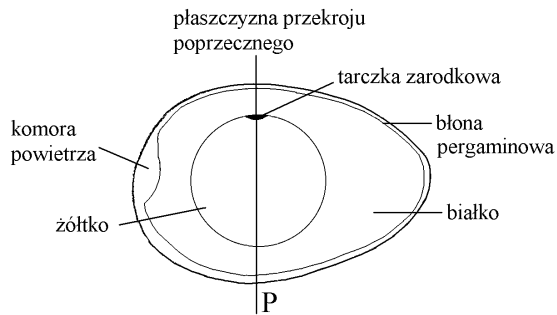
Zadanie 13. (0–1)

Jajo strusia jest około 3 razy dłuższe od jaj kury. Jeśli ślizgało życie, że żółtki tych jaj mają kształt kul podobnych w skali 3:1, to żółtko w strusim jaju ma objętość większą niż żółtko w jajku kury

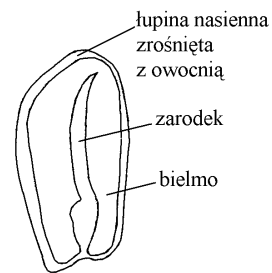
- A. 27 razy.
- B. 9 razy.
- C. 6 razy.
- D. 3 razy.

Informacja do zadania 14. i 15.

Owoce bób i faszyki nazywamy ziarniakami. Na rysunkach przedstawiono przekroje podłużne przez jajko kurzy i ziarniak kukurydzy.



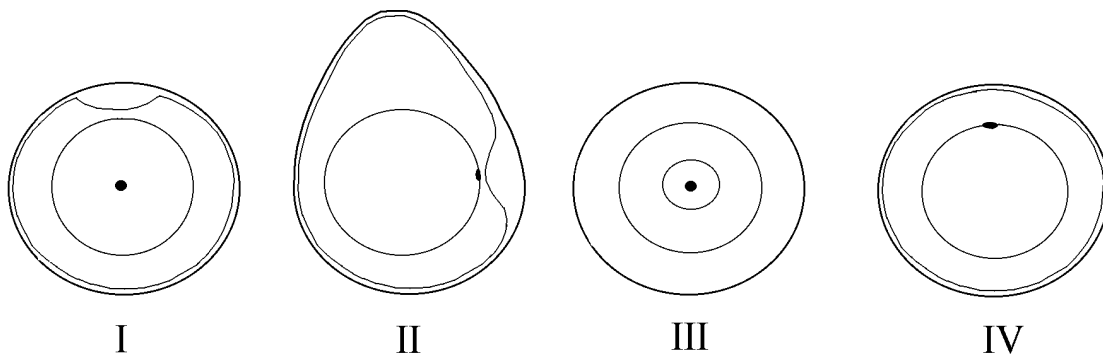
Przekrój podłużny przez jajo



Przekrój podłużny przez ziarniak

Zadanie 14. (0-1)

Który z rysunków: I, II, III czy IV przedstawia przekrój poprzeczny przez jajo kury wykonany w miejscu zaznaczonej linią P?



A. I

B. II

C. III

D. IV

Zadanie 15. (0-1)

Którą część ziarniaka pełni podobną funkcję jak żółtko jaja?

A. Łupina.

B. Owocnia.

C. Bielmo.

D. Zarodek.

Zadanie 16. (0-1)

Zarodek kukurydzy znajduje się w ziarnaku

A. od żywności autotroficznie, oddychając beztlenowo.

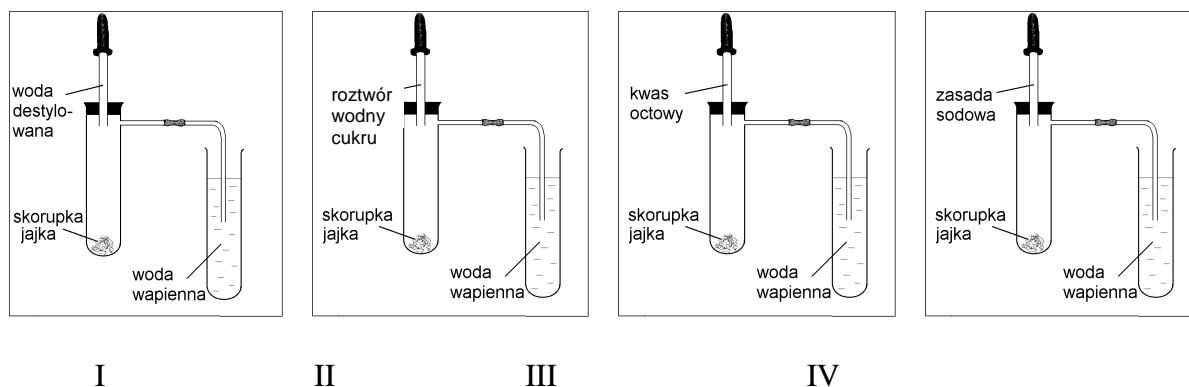
B. od żywności z bielma, oddychając tlenowo.

C. od żywności z łupiny owocowo-nasiennej, oddychając tlenowo.

D. od żywności z bielma, oddychając beztlenowo.

Zadanie 17.(0–1)

Narysunkach przedstawiono schematycznie cztery doświadczenia.



Wybierz to doświadczenie, z którego obserwacje pozwalają wyciągnąć wniosek o obecności węgla w skorupce jajka.

- A.I B.II C.III D.IV

Zadanie 18.(0–1)

W tabeli przedstawiono procentowy skład powietrza wdychanego i wydychanego.

| Składniki powietrza | Zawartość w powietrzu wdychanym | Zawartość w powietrzu wydychanym |
|---------------------|---------------------------------|----------------------------------|
| Azot | 78,4% | 74,3% |
| Tlen | 20,8% | 15,3% |
| Dwutlenek węgla | 0,04% | 4,2% |

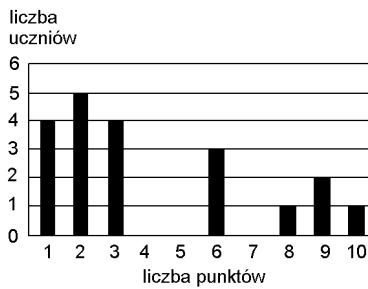
Tablice biologiczne, red. W. Mizerski, Warszawa 1994.

Wybierz stwierdzenie objaśniające zasadność stosowania sztucznego oddychania metodą „usta–usta”.

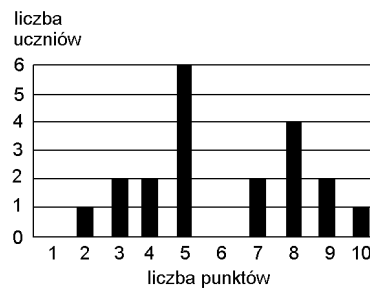
- A. Człowiek całkowicie wykorzystuje tlen zawarty w powietrzu wdychanym.
B. Człowiek nie wykorzystuje azotu zawartego w powietrzu.
C. Człowiek nie wykorzystuje całkowicie tlenu zawartego w powietrzu wdychanym.
D. Człowiek wytwarza dwutlenek węgla w swoim organizmie.

Informacja do zadań 19–21.

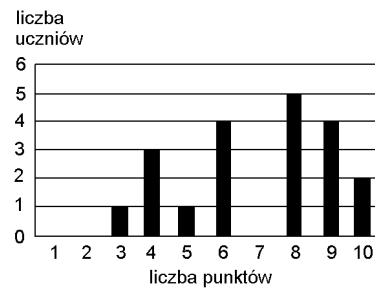
Oto wyniki krótkiego sprawdzianu przeprowadzonego w trzech oddziałach II klasy gimnazjum:



klasa IIa



klasa IIb



klasa IIc

Zadanie 19. (0–1)

Zporównaj wykresy wyników, że sprawdzian był

- A. najtrudniejszy dla uczniów IIa.
- B. najtrudniejszy dla uczniów IIb.
- C. najtrudniejszy dla uczniów IIc.
- D. jednakowo trudny dla uczniów z oddziałów a, b, c.

Zadanie 20. (0–1)

Średni wynik uczniów IIb jest równy 6 punktów. Ilu uczniów

ów w tej klasie uzyskało taki

- A. 0
- B. 1
- C. 3
- D. 4

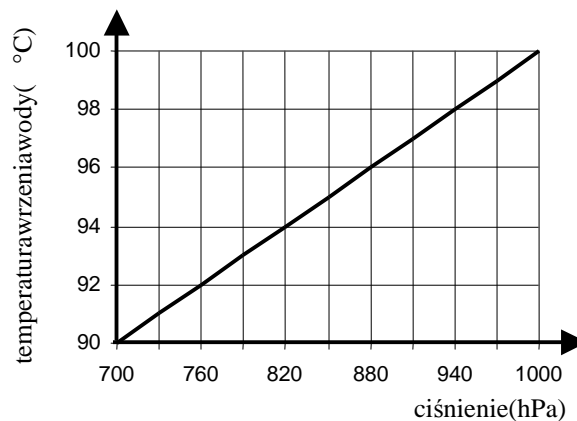
Zadanie 21. (0–1)

Ilucywnówz klasy IIa otrzymało co najmniej 6 punktów?

- A. 13
- B. 7
- C. 4
- D. 3

Zadanie 22.(0-1)

Przeanalizuj wykres zależności temperatury wrzenia wody od ciśnienia.



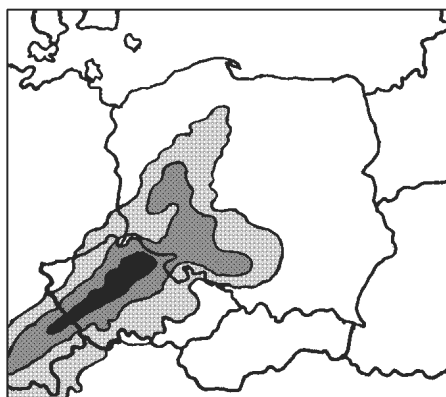
W którym z miejsc: w Zakopanem, na szczycie Rysów, na plaży w Sopocie czy na Żuławach temperatura wrzenia wody jest najniższa?

- A. W Zakopanem.
- B. Na szczycie Rysów.
- C. Na plaży w Sopocie.
- D. Na Żuławach.

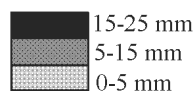
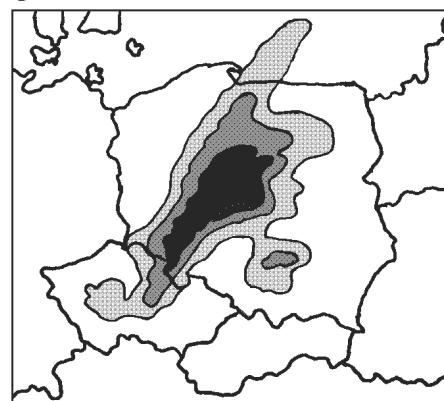
Informacje do zadania 23. i 24.

Mapy przedstawiają zasięg i intensywność opadów tego samego dnia o godz. 0.00 i o godz. 6.00.

godz. 0.00



godz. 6.00



Zadanie 23.(0-1)

Z jakiego kierunku napływał nad Polskę masy powietrza przynioszące opady?

- A. Północno-wschodniego.
- B. Północno-zachodniego.
- C. Południowo-wschodniego.
- D. Południowo-zachodniego.

Zadanie 24. (0–1)

O godzinie 6.00 najobfitsze opady wystąpiły w

A. Łodzi i Krakowie.
C. Łodzi i Wrocławiu.

B. Białymstoku i Wrocławiu.
D. Gdańsku i Szczecinie.

Zadanie 25. (0–1)

Morze Bałtyckie jest słabo zasolone. Wartość zasolenia waha się od 0,2% w Zatoce Botnickiej do 1,8% u wybrzeży Danii, a średnie zasolenie Oceanu Atlantyckiego jest równe 3,4%. Którazponiższych odpowiedzi wyjaśnią tak niskie zasolenie?

- A. Dużeparowanie, włąskiepołączenie oceanem, niewielkidopływ słodkich wód.
- B. Duży dopływ słodkich wód, włąskiepołączenie oceanem, niewielkieparowanie.
- C. Gorący klimat, duży dopływ wód słodkich, swobodnawymianawódz oceanem.
- D. Małeparowanie, niewielkidopływ wód rzecznych, swobodnawymianawódz oceanem.

Zadanie 26. (0–3)

Pan Jan wpłacił 1200 zł do banku FORTUNA, w którym oprocentowanie wkładów oszczędnościowych jest równe 8% w stosunku rocznym. Ile wyniosą odsetki od tej kwoty po roku, a ile złotych pozostanie z nich panu Janowi, jeżeli od kwoty odsetek zostanie odprowadzony podatek 20%? Zapisz obliczenia.

Brudnopis

Odpowiedź:

Informacje do zadań: 27–30.

Obserwując zużycie benzyny w swoim samochodzie, pan Nowak stwierdził, że jeśli wystartuje z pełnym baku i będzie jeździł po autostradzie ze stałą prędkością, to zużycie benzyny (liczone w litrach) w baku (y) od liczby przejechanych kilometrów (x) wyraża się wzorem:

$$y = -0,05x + 45$$

Zadanie 27. (0–2)

Ile benzyny zostanie w baku po przejechaniu 200 km? Zapisz obliczenia.

Brudnopis

Odpowiedź:

Zadanie 28. (0–1)

Jaką pojemność ma бак tego samochodu?

Odpowiedź:

Zadanie 29. (0–2)

Naprzejechanie ilu kilometrów wystarczy pełny bak? Zapisz obliczenia.

Brudnopis

Odpowiedź:

Zadanie 30. (0–2)

Przekształć wzór pana Nowaka, wyznacz wzależność x od y .


Brudnopis

Odpowiedź:

Zadanie 31. (0–3)

Na Ziemi nieustannie zachodzą procesy erozji (złobienia i niszczenia) oraz akumulacji (budowania).

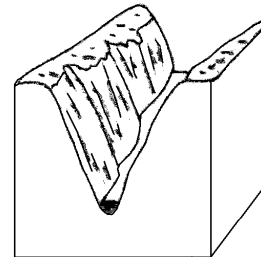
Spośród podanych procesów geologicznych: akumulacja eoliczna (wiatrowa), erozja lodowcowa, erozja rzeczna, erozja eoliczna (wietrzna) wybierz te procesy, w wyniku których powstały przedstawione narysunkach formy i wpisz ich nazwy pod rysunkami.



grzyb skalny



wydmy



kanion

Zadanie 32. (0–5)

Ewa usiadła na ławce w odległości 6 m od domu Adama. Odbity od kąta promień słoneczny poraził ją w oczy. To Adam z okna swego pokoju przesłał Ewie „zajaczkę”. Oblicz, najakwiej wysokość Adama błysnąłusterkiem, jeżeli promień uderzył w odległości 0,75 metra od Ewy, a jej oczy znajdowały się na wysokości 1 metra nad ziemią. Zrób rysunek pomocniczy. Zapisz obliczenia.

Brudnopis

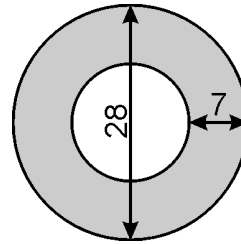
Odpowiedź:

Zadanie 33. (0–5)

Na miejscu dawnego skrzyżowania postanowiono wybudować rondo, którego wymiary (w metrach) podane są na rysunku.

Oblicz, na jakiej powierzchni trzeba wylać asfalt (obszar zacieniowany na rysunku).

W swoich obliczeniach za π podstaw $\frac{22}{7}$.



Zapisz obliczenia.

Brudnopis

Odpowiedź:.....

Zadanie 34. (0–2)

W czasie prac wykopaliskowych wydobyto 45 m^3 ziemi, z której usypano kopiec w kształcie stożka. Jego pole podstawy jest równe 54 m^2 . Oblicz wysokość kopca, pamiętając, że objętość stożka jest równa jednej trzeciej iloczynu pola podstawy i wysokości. Zapisz obliczenia.

Brudnopis

Odpowiedź:.....

Brudnopis